

**UZUPEŁNIA ZDAJĄCY**

KOD			PESEL																

*miejsce  
na naklejkę*

# EGZAMIN MATURALNY Z CHEMII

## POZIOM ROZSZERZONY

 DATA: **13 maja 2019 r.**

 GODZINA ROZPOCZĘCIA: **9:00**

 CZAS PRACY: **180 minut**

 LICZBA PUNKTÓW DO UZYSKANIA: **60**

### Instrukcja dla zdającego

1. Sprawdź, czy arkusz egzaminacyjny zawiera 25 stron (zadania 1–40). Ewentualny brak zgłoś przewodniczącemu zespołu nadzorującego egzamin.
2. Rozwiązania i odpowiedzi zapisz w miejscu na to przeznaczonym przy każdym zadaniu.
3. W rozwiązaniach zadań rachunkowych przedstaw tok rozumowania prowadzący do ostatecznego wyniku oraz pamiętaj o jednostkach.
4. Pisz czytelnie. Używaj długopisu/pióra tylko z czarnym tuszem/atramentem.
5. Nie używaj korektora, a błędne zapisy wyraźnie przekreśl.
6. Pamiętaj, że zapisy w brudnopisie nie będą oceniane.
7. Możesz korzystać z *Wybranych wzorów i stałych fizykochemicznych na egzamin maturalny z biologii, chemii i fizyki*, linijki oraz kalkulatora prostego.
8. Na tej stronie oraz na karcie odpowiedzi wpisz swój numer PESEL i przyklej naklejkę z kodem.
9. Nie wpisuj żadnych znaków w części przeznaczonej dla egzaminatora.



MCH-R1\_1P-192

NOWA FORMUŁA

**Zadanie 1. (0–1)**

Dwa pierwiastki oznaczono umownie literami X i Z. Dwuujemny jon pierwiastka Z ma konfigurację elektronową  $1s^2 2s^2 2p^6 3s^2 3p^6$  w stanie podstawowym. Pierwiastki X i Z tworzą związek  $XZ_2$ , w którym stosunek masowy pierwiastka X do pierwiastka Z jest równy 3 : 16. Cząsteczka tego związku ma budowę liniową.

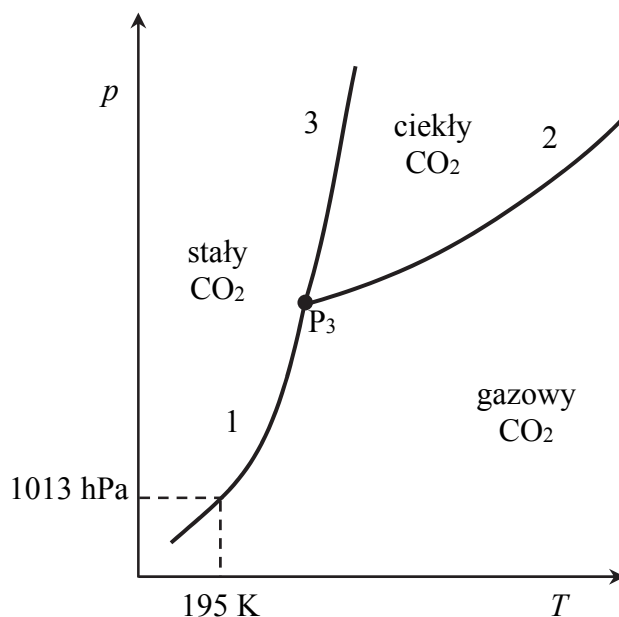
**Napisz wzór sumaryczny związku opisanego w informacji, zastępując umowne oznaczenia X i Z symbolami pierwiastków. Podaj typ hybrydyzacji ( $sp$ ,  $sp^2$ ,  $sp^3$ ) orbitali walencyjnych atomu pierwiastka X tworzącego związek  $XZ_2$  oraz napisz liczbę wiązań typu  $\sigma$  i liczbę wiązań typu  $\pi$  występujących w cząsteczce opisanego związku chemicznego.**

Wzór sumaryczny: ..... Typ hybrydyzacji: .....

Liczba wiązań typu  $\sigma$ : ..... Liczba wiązań typu  $\pi$ : .....

**Zadanie 2. (0–1)**

Poniższy diagram fazowy tlenku węgla(IV) przedstawia wartości temperatury i ciśnienia, w których  $CO_2$  występuje w różnych fazach: w stanie stałym, ciekłym lub gazowym. Linie ciągle określają warunki temperatury i ciśnienia, w których istnieje trwała równowaga między dwiema fazami. W punkcie oznaczonym symbolem  $P_3$  ( $T = 216\text{ K}$  i  $p = 5100\text{ hPa}$ )  $CO_2$  występuje w trzech fazach znajdujących się w stanie równowagi.



Na podstawie: K. Pigoń, Z. Ruziewicz, *Chemia fizyczna. Podstawy fenomenologiczne*, Warszawa 2007.

**Oceń, czy podane poniżej informacje są prawdziwe. Zaznacz P, jeśli informacja jest prawdziwa, albo F – jeśli jest fałszywa.**

1.	Pod ciśnieniem wyższym od 5100 hPa tlenek węgla(IV) nie występuje w ciekłym stanie skupienia.	P	F
2.	W temperaturze 195 K i pod ciśnieniem 1013 hPa stały tlenek węgla(IV) może ulegać sublimacji.	P	F
3.	Zmianę wartości <u>temperatury topnienia</u> tlenku węgla(IV) w zależności od ciśnienia ilustruje krzywa oznaczona numerem 2.	P	F

**Zadanie 3. (0–1)**

Uzupełnij poniższe zdania dotyczące czterech różnych rodzajów kryształów. Wybierz i zaznacz jedno określenie spośród podanych w każdym nawiasie.

W kryształach metalicznych sieć krystaliczna zbudowana jest z (atomów / cząsteczek / kationów i anionów / kationów metali) otoczonych chmurą zdelokalizowanych elektronów. Elementami, z których zbudowana jest sieć krystaliczna tlenku wapnia, są (atomy / cząsteczki / kationy i aniony). W kryształach molekularnych dominują oddziaływania międzycząsteczkowe, a w kryształach kowalencyjnych atomy tworzące sieć krystaliczną połączone są wiązaniami kowalencyjnymi. Przykładem kryształu molekularnego jest kryształ (chlorku sodu / sacharozy / wapnia), a przykładem kryształu kowalencyjnego – kryształ (diamentu / jodu / węgla wapnia).

**Informacja do zadań 4.–5.**

Anion tlenkowy  $O^{2-}$  jest zasadą Brønsteda mocniejszą niż jon wodorotlenkowy  $OH^-$ . Jon tlenkowy nie występuje w wodnych roztworach, ponieważ jako bardzo mocna zasada reaguje z cząsteczką wody.

**Zadanie 4. (0–1)**

Napisz równanie reakcji anionu tlenkowego z cząsteczką wody.

.....

**Zadanie 5. (0–1)**

Uzupełnij poniższe zdania. Wybierz i zaznacz jedno określenie spośród podanych w każdym nawiasie.


Aniony tlenkowe występują w sieci krystalicznej jonowych tlenków pierwiastków mających (małą / dużą) elektroujemność i należących do grup układu okresowego o numerach: (1 i 2 / 14 i 15 / 16 i 17). Ulegające reakcji z wodą tlenki tych pierwiastków tworzą roztwory o silnie (kwasowym / zasadowym) odczynie, a więc o (niskim / wysokim) pH.

Wypełnia egzaminator	Nr zadania	1.	2.	3.	4.	5.
	Maks. liczba pkt	1	1	1	1	1
	Uzyskana liczba pkt					



**Zadanie 8. (0–2)**

W zamkniętym reaktorze o pojemności  $1 \text{ dm}^3$  znajdowały się gazowe substancje A i B zmieszane w stosunku stechiometrycznym. Reagenty ogrzano do temperatury  $T$  i zainicjowano reakcję przebiegającą zgodnie z poniższym schematem.

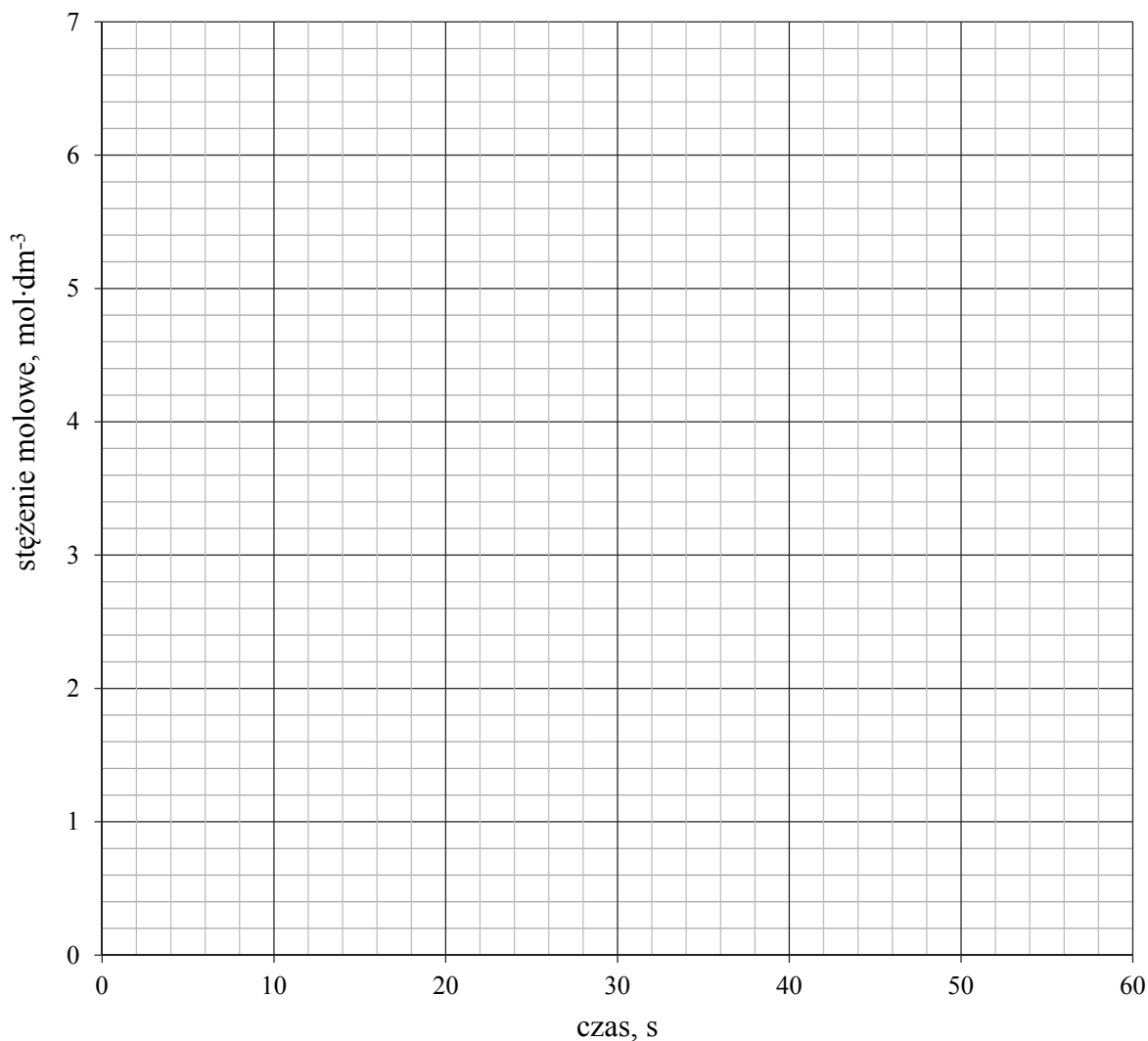


Przez jedną minutę, co 10 sekund, oznaczano liczbę moli substancji A w mieszaninie reakcyjnej. Wyniki zestawiono w poniższej tabeli.

Czas, s	0	10	20	30	40	50	60
Liczba moli substancji A, mol	3,60	2,80	2,20	1,95	1,90	1,90	1,90

Uzupełnij poniższą tabelę, a następnie narysuj wykres przedstawiający zależność stężenia substancji C od czasu trwania reakcji, czyli w przedziale  $\langle 0\text{s}, 60\text{s} \rangle$ .

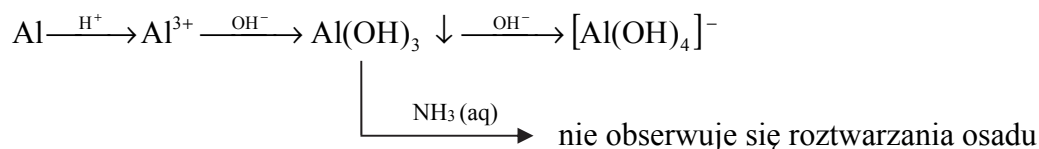
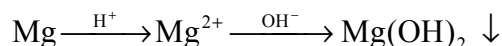
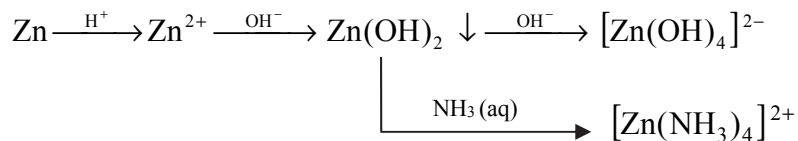
Czas, s	0	10	20	30	40	50	60
Liczba moli substancji C, mol							



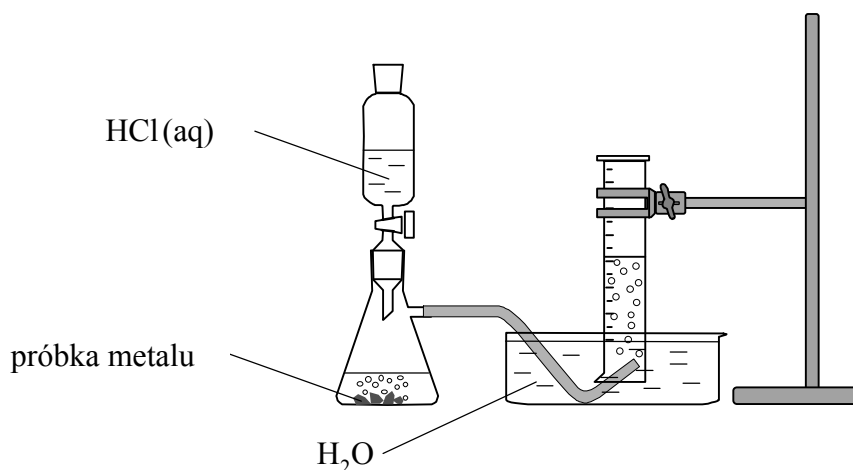
Wypełnia egzaminator	Nr zadania	6.	7.	8.
	Maks. liczba pkt	1	2	2
	Uzyskana liczba pkt			

### Informacja do zadań 9.–10.

Cynk, magnez i glin w opisanych poniżej doświadczeniach ulegają przemianom zilustrowanym następującymi schematami:



W kolbach oznaczonych numerami I, II i III umieszczono w przypadkowej kolejności próbki cynku, magnezu i glinu. W każdej kolbie była próbka innego metalu. Na te metale podziałano kwasem solnym. Opisane doświadczenie zilustrowano poniższym schematem.



### Zadanie 9.

Podczas opisanego doświadczenia w każdej kolbie metal uległ całkowitemu rozтворzeniu i powstały klarowne, bezbarwne roztwory chlorków badanych metali. Przebiegowi wszystkich reakcji towarzyszyło wydzielanie się bezbarwnego gazu.

### Zadanie 9.1. (0–1)

Spośród czynności, których nazwy podano poniżej, wybierz tę, którą należy wykonać jako pierwszą w celu wyodrębnienia z każdej mieszaniny poreakcyjnej (powstałej podczas opisanego doświadczenia) jonowego produktu reakcji. Podkreśl jej nazwę.

sączenie

odwirowanie

odparowanie pod wyciągiem

**Zadanie 9.2. (0–1)**

Napisz w formie jonowej skróconej równanie reakcji glinu z kwasem solnym.

.....

**Zadanie 10.**

W celu identyfikacji roztworów chlorków otrzymanych w kolbach I, II i III przeprowadzono dwa doświadczenia. W pierwszym z nich jako odczynnika użyto wodnego roztworu wodorotlenku sodu, a w drugim – wodnego roztworu amoniaku.

**Zadanie 10.1. (0–1)**

Podczas pierwszego doświadczenia próbki roztworów z kolb I, II i III umieszczono w probówkach oznaczonych tymi samymi numerami i do każdej z nich dodawano kroplami roztwór wodorotlenku sodu. We wszystkich probówkach zaobserwowano wytrącenie się białego osadu. Podczas dodawania kolejnych porcji odczynnika zaobserwowano rozтворzenie się osadów w probówkach I i III, natomiast osad w probówce II pozostał niezmienny.

**Podkreśl symbol metalu, którego jony zidentyfikowano podczas opisanego (pierwszego) doświadczenia. Uzasadnij swój wybór.**

Metal, którego jony zidentyfikowano podczas opisanego doświadczenia, to (Al / Mg / Zn).

Uzasadnienie wyboru: .....

.....

.....

**Zadanie 10.2. (0–2)**

Podczas drugiego doświadczenia próbki roztworów z kolb I i III umieszczono w probówkach oznaczonych tymi samymi numerami i do każdej z nich dodawano kroplami roztwór amoniaku. Najpierw w obu probówkach wytrącił się biały osad, ale przy dodawaniu kolejnych porcji odczynnika zaobserwowano rozтворzenie się osadu w probówce I.

**Napisz:**

- w formie jonowej skróconej równanie reakcji, w wyniku której w probówce III wytrącił się biały osad;
- .....

- w formie jonowej skróconej równanie reakcji, w wyniku której nastąpiło rozтворzenie białego osadu w probówce I.
- .....

Wypełnia egzaminator	Nr zadania	9.1.	9.2.	10.1.	10.2.
	Maks. liczba pkt	1	1	1	2
	Uzyskana liczba pkt				

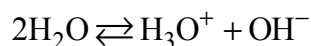






**Informacja do zadań 14.–15.**

W czystej wodzie ustala się stan równowagi reakcji autoprotolizy, która zachodzi zgodnie z równaniem:



Tę reakcję opisuje stała równowagi nazywana iloczynem jonowym wody. Wyraża się ona równaniem:

$$K_w = [\text{H}_3\text{O}^+] \cdot [\text{OH}^-]$$

**Zadanie 14. (0–1)**

Poniżej przedstawiono wartości iloczynu jonowego wody  $K_w$  w zakresie temperatury 0°C–100°C (pod ciśnieniem atmosferycznym).

Temperatura, °C	0	20	40	60	80	100
$K_w$	$0,1 \cdot 10^{-14}$	$0,7 \cdot 10^{-14}$	$3,0 \cdot 10^{-14}$	$9,6 \cdot 10^{-14}$	$25,1 \cdot 10^{-14}$	$55,0 \cdot 10^{-14}$

Na podstawie: W. Ufnalski, *Równowagi jonowe*, Warszawa 2004.

**Uzupełnij poniższe zdania. Wybierz i zaznacz jedno określenie spośród podanych w każdym nawiasie.**

Reakcja autodysocjacji wody jest (egzoenergetyczna / endoenergetyczna). Wraz ze wzrostem temperatury pH czystej wody (maleje / rośnie / nie ulega zmianie).

**Zadanie 15.**

Zdolność autoprotolizy charakteryzuje nie tylko wodę, lecz także inne rozpuszczalniki, np.: ciekły amoniak (skroplony pod zwiększonym ciśnieniem), metanol i kwas mrówkowy.

**Zadanie 15.1. (0–1)**

**Napisz trzy równania reakcji autoprotolizy: ciekłego amoniaku, metanolu i kwasu mrówkowego. Zastosuj wzory półstrukturalne (grupowe) organicznych produktów reakcji.**

**Zadanie 15.2. (0–1)**

**Wyjaśnij, dlaczego cząsteczki amoniaku, metanolu i kwasu mrówkowego mają zdolność odszczepiania i przyłączania protonu w procesie autoprotolizy. Odniesz się do budowy tych cząsteczek.**

Cząsteczki wymienionych związków mają zdolność odszczepiania protonu, ponieważ

.....

.....

Cząsteczki wymienionych związków mają zdolność przyłączania protonu, ponieważ

.....

.....



### Zadanie 18.

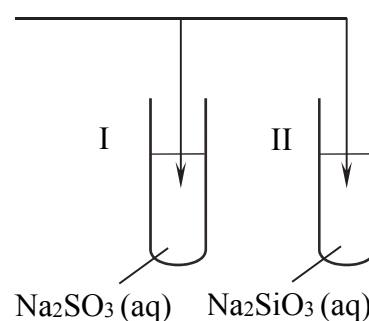
Przeprowadzono doświadczenie, w którym badano działanie pewnego odczynnika na dwa wodne roztwory soli. W probówce I znajdował się roztwór siarczanu(IV) sodu, a w probówce II – roztwór krzemianu(IV) sodu. Po dodaniu odczynnika zaobserwowano, że:

- w każdej probówce zaszła reakcja chemiczna;
- przebieg doświadczenia był różny dla obu probówek;
- tylko w jednej z probówek wytrącił się osad.

### Zadanie 18.1. (0–1)

Uzupełnij schemat doświadczenia. Wybierz i zaznacz w podanym zestawie wzór jednego odczynnika, którego zastosowanie spowodowało efekty opisane w informacji.

Wybrany odczynnik: KOH (aq) / stężony HCl (aq) / CaCl<sub>2</sub> (aq)



### Zadanie 18.2. (0–1)

Napisz, co zaobserwowano w probówce, w której nie wytrącił się osad podczas opisanego doświadczenia.

.....  
.....

### Zadanie 18.3. (0–2)

Napisz w formie jonowej skróconej równania reakcji, które przebiegły w probówkach I i II i były przyczyną obserwowanych zmian.

Równanie reakcji przebiegającej w probówce I:


.....

Równanie reakcji przebiegającej w probówce II:

.....

**Zadanie 19. (0–1)**

Przeprowadzono doświadczenie, w którym do probówki I wiano kwas solny o  $\text{pH} = 2$ , a do probówki II – wodny roztwór kwasu octowego (etanowego) o  $\text{pH} = 2$ . Roztwory miały temperaturę 298 K. Następnie do obu probówek dodano po 1 gramie pyłu cynkowego. Opisane doświadczenie zilustrowano poniższym schematem.



Oceń, czy podane poniżej informacje są prawdziwe. Zaznacz P, jeśli informacja jest prawdziwa, albo F – jeśli jest fałszywa.

1.	W warunkach doświadczenia stężenie molowe kwasu solnego jest większe niż stężenie molowe wodnego roztworu kwasu octowego.	P	F
2.	Użycie w doświadczeniu wodnych roztworów o $\text{pH} = 3$ skutkowało by wzrostem szybkości reakcji wyłącznie w probówce II, ponieważ kwas uczestniczący w tej przemianie jest kwasem słabym.	P	F
3.	Ochłodzenie obu użytych w doświadczeniu wodnych roztworów skutkowało by zmniejszeniem szybkości wydzielania gazu w przemianach zachodzących w probówkach I i II.	P	F

**Zadanie 20. (0–1)**

Do wodnego roztworu zawierającego 0,1 mola wodorotlenku sodu dodano wodny roztwór zawierający 0,1 mola kwasu etanowego (octowego). Następnie w mieszaninie poreakcyjnej zanurzono żółty uniwersalny papierek wskaźnikowy.

Dokończ poniższe zdanie. Wybierz i zaznacz odpowiedź A, B albo C i jej uzasadnienie 1., 2., 3. albo 4.

Uniwersalny papierek wskaźnikowy

A.	przyjął niebieskie zabarwienie,	ponieważ	1.	użyto nadmiaru zasady.
B.	nie zmienił zabarwienia,		2.	etanian (octan) sodu ulega hydrolizie kationowej.
C.	przyjął czerwone zabarwienie,		3.	etanian (octan) sodu ulega hydrolizie anionowej.
			4.	otrzymano roztwór o odczynie obojętnym.

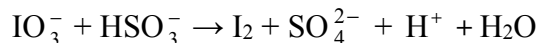
Wypełnia egzaminator	Nr zadania	18.1.	18.2.	18.3.	19.	20.
	Maks. liczba pkt	1	1	2	1	1
	Uzyskana liczba pkt					

**Zadanie 21. (0–2)**

Jod otrzymuje się z saletry chilijskiej, zawierającej głównie azotan(V) sodu, lecz także m.in. śladowe ilości jodanu(V) sodu i jodanu(VII) sodu. Po zatężeniu wodnego roztworu jodany redukuje się do jodu za pomocą wodorosiarczanu(IV) sodu.

Na podstawie: J.D. Lee, *Związła chemia nieorganiczna*, Warszawa, 1994.

Jedną z opisanych reakcji przedstawia poniższy schemat.



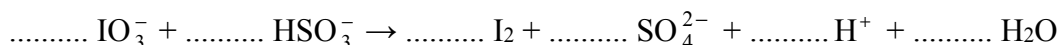
**Napisz w formie jonowej skróconej, z uwzględnieniem liczby oddawanych lub pobieranych elektronów (zapis jonowo-elektronowy), równania procesów redukcji i utleniania zachodzących podczas opisanej przemiany. Dobierz i uzupełnij współczynniki stechiometryczne w poniższym schemacie.**

Równanie procesu redukcji:


.....

Równanie procesu utleniania:

.....

**Informacja do zadań 22.–24.**

Jedną z metod otrzymywania halogenoalkanów jest reakcja alkoholu alifatycznego z halogenkiem fosforu(III). Ta reakcja przebiega zgodnie z poniższym schematem, w którym R oznacza grupę alkilową, a X – atom halogenu.



Na podstawie: K.-H. Lautenschläger, W. Schröter, A. Wanninger, *Nowoczesne kompendium chemii*, Warszawa 2007.

**Zadanie 22. (0–1)**

**Napisz równanie reakcji otrzymywania 3-bromo-3-metyloheksanu opisaną metodą – zastosuj wzory półstrukturalne (grupowe) reagentów organicznych. Napisz nazwę systematyczną użytego alkoholu.**

Równanie reakcji:

Nazwa systematyczna alkoholu:

.....

**Zadanie 23. (0–1)**

Napisz wzór elektronowy bromku fosforu(III). Pary elektronowe wiązań oraz wolne pary elektronowe zaznacz kreskami. Oceń, czy cząsteczka bromku fosforu(III) jest płaska.

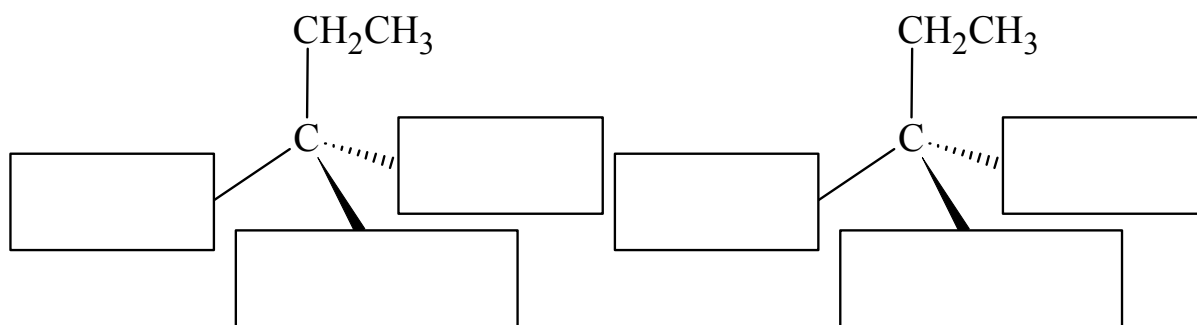
Wzór:

Ocena: .....

**Zadanie 24. (0–1)**

W opisaney metodzie 3-bromo-3-metyloheksan otrzymuje się w postaci mieszaniny racemicznej, czyli równomolowej mieszaniny obu enancjomerów.

Uzupełnij poniższy schemat, tak aby przedstawiał wzory stereochemiczne składników tej mieszaniny.

**Zadanie 25. (0–1)**

Detergenty są składnikami powszechnie używanych środków czyszczących i piorących. Wśród stosowanych obecnie detergentów można wyróżnić detergenty kationowe i anionowe. Przykładem detergentu anionowego jest związek o wzorze



Można go otrzymać w reakcji estryfikacji z udziałem alkoholu o długim prostym łańcuchu węglowym i odpowiedniego kwasu. Tak uzyskany ester poddaje się reakcji z wodorotlenkiem sodu, w wyniku czego otrzymuje się środek powierzchniowo czynny, który – podobnie jak mydła – zawiera dwa fragmenty: niepolarny i polarny.

Podaj wzory sumaryczne alkoholu i kwasu nieorganicznego, których należy użyć w opisanym procesie otrzymania tego detergentu.

Wzór sumaryczny alkoholu: .....

Wzór sumaryczny kwasu nieorganicznego: .....

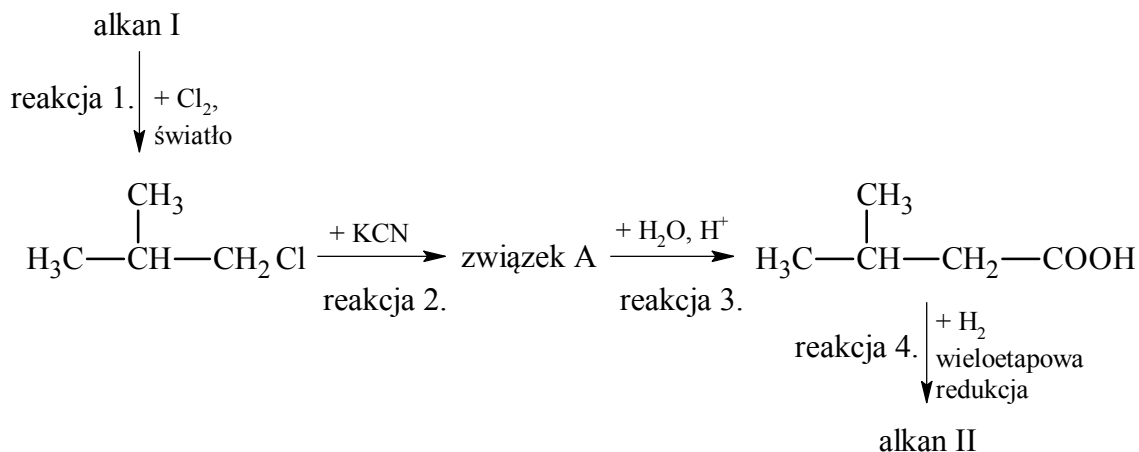
	Nr zadania	21.	22.	23.	24.	25.
Wypełnia egzaminator	Maks. liczba pkt	2	1	1	1	1
	Uzyskana liczba pkt					

**Informacja do zadań 26.–27.**

Alkanonitryle to związki o wzorze ogólnym R–CN, które otrzymuje się w reakcji odpowiedniego halogenku alkilu z cyjankiem potasu o wzorze KCN. Reakcja przebiega w roztworze wodno-alkoholowym. W wyniku hydrolizy alkanonitryli w środowisku rozcieńczonego kwasu siarkowego(VI) powstaje odpowiedni kwas karboksylowy.

Na podstawie: K.-H. Lautenschläger, W. Schröter, A. Wanninger, *Nowoczesne kompendium chemii*, Warszawa 2007.

Poniżej przedstawiono schemat ciągu reakcji, w wyniku których z alkanu I otrzymano alkan II:

**Zadanie 26. (0–1)**

Napisz równanie reakcji 2. – zastosuj wzory półstrukturalne (grupowe) związków organicznych. Napisz nazwę systematyczną związku organicznego, który jest produktem reakcji 3.

Równanie reakcji 2.:

.....

Nazwa systematyczna produktu reakcji 3.: .....

**Zadanie 27. (0–2)**

Napisz wzory półstrukturalne (grupowe) alkanów I i II. Porównaj oba wzory i na tej podstawie określ, w jakim celu opisany proces (reakcje 1.–4.) jest stosowany w syntezie organicznej.

Wzór alkanu I	Wzór alkanu II

Zastosowanie opisanego procesu: .....

.....

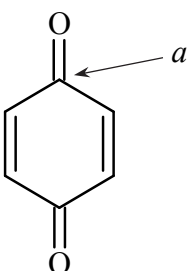
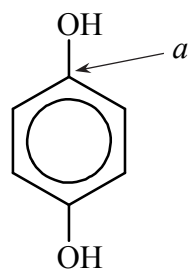
.....





**Informacja do zadań 29.–30.**

Poniżej przedstawiono uproszczony wzór *para*-benzochinonu – jednego z chinonów – oraz produktu jego redukcji, czyli hydrochinonu. Pod wzorami tych związków podano ich nazwy systematyczne.

<i>para</i> -benzochinon	hydrochinon
	
cykloheksa-2,5-dieno-1,4-dion	benzeno-1,4-diol

Izomerem *para*-benzochinonu jest *orto*-benzochinon. Jego nazwa systematyczna to cykloheksa-3,5-dieno-1,2-dion.

**Zadanie 29. (0–1)**

Napisz wzór uproszczony *orto*-benzochinonu.

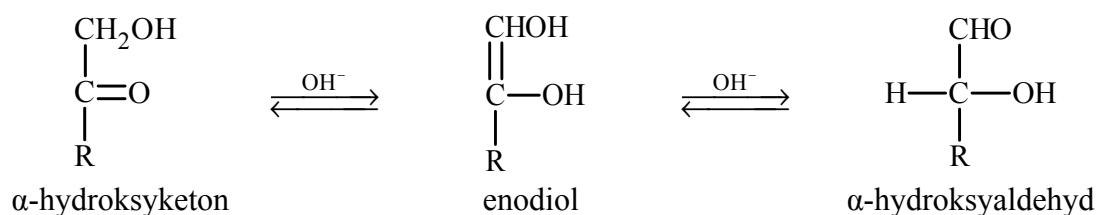
**Zadanie 30. (0–1)**

Określ formalny stopień utlenienia oraz typ hybrydyzacji ( $sp$ ,  $sp^2$ ,  $sp^3$ ) orbitali walencyjnych atomu węgla oznaczonego literą *a* w cząsteczce *para*-benzochinonu i w cząsteczce hydrochinonu. Uzupełnij tabelę.

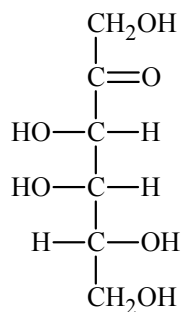
	Stopień utlenienia	Typ hybrydyzacji
<i>para</i> -benzochinon		
hydrochinon		

**Zadanie 31.**

Ketony, których cząsteczki zawierają grupę hydroksylową –OH przy atomie węgla połączonym z atomem węgla grupy karbonylowej ( $\alpha$ -hydroksyketony), w wodnym roztworze o odczynie zasadowym ulegają izomeryzacji. Tę przemianę ilustruje poniższy schemat.

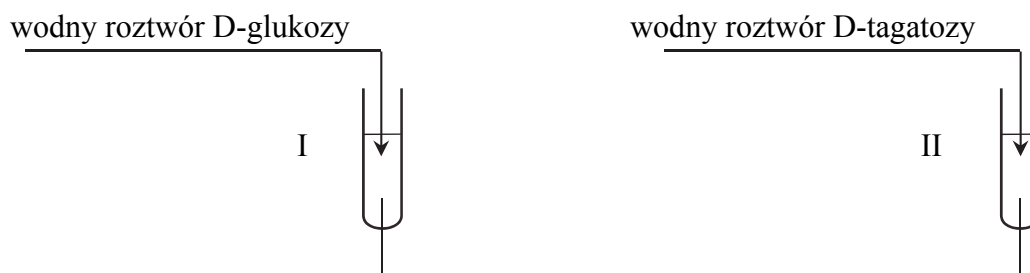


D-tagatoza jest monosacharydem o wzorze



**Zadanie 31.1. (0–1)**

Wybierz jedną parę odczynników, które umożliwią odróżnienie D-glukozy od D-tagatozy. Uzupełnij schemat doświadczenia – podkreśl wzory wybranych odczynników.



Odczynniki:  $\text{AgNO}_3$  (aq) i  $\text{NH}_3$  (aq) /  $\text{CuSO}_4$  (aq) i  $\text{KOH}$  (aq) /  $\text{Br}_2$  (aq) i  $\text{KHCO}_3$  (aq)

**Zadanie 31.2. (0–1)**

Opisz możliwe do zaobserwowania różnice w przebiegu doświadczenia dla obu monosacharydów – uzupełnij tabelę.

Numer próbówki	Opis zawartości próbówki	
	przed wprowadzeniem roztworu monosacharydu	po wprowadzeniu roztworu monosacharydu
I		
II		

**Zadanie 31.3. (0–1)**

Wskaż różnicę w budowie cząsteczek D-glukozy i D-tagatozy umożliwiającą odróżnienie ich zaproponowaną metodą.

.....  
 .....

Wypełnia egzaminator	Nr zadania	29.	30.	31.1.	31.2.	31.3
	Maks. liczba pkt	1	1	1	1	1
	Uzyskana liczba pkt					







**Zadanie 37.2. (0–1)**

Napisz, jakie obserwacje potwierdzą, że w próbówce I znajduje się wodny roztwór mocznika, a w próbówce II – wodny roztwór węglanu amonu.

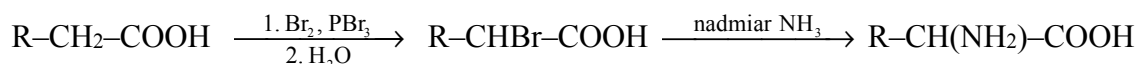
Probówka I: .....

Probówka II: .....

**Zadanie 38. (0–1)**

Aminokwasy białkowe są  $\alpha$ -aminokwasami, co znaczy, że w ich cząsteczkach jedna para grup funkcyjnych: aminowej i karboksylowej, jest połączona z tym samym atomem węgla.

$\alpha$ -Aminokwasy można otrzymać z kwasów karboksylowych w syntezie, której przebieg zilustrowano na schemacie.



Na podstawie: J. McMurry, *Chemia organiczna*, Warszawa 2000.

Napisz wzór półstrukturalny (grupowy) kwasu karboksylowego, którego należy użyć do otrzymania leucyny opisaną metodą, i podaj nazwę systematyczną bromopochodnej tego kwasu stanowiącej produkt pośredni w opisanej metodzie.

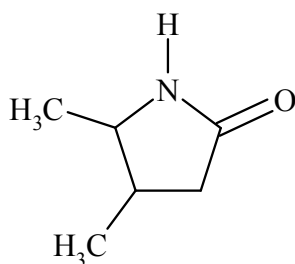
Wzór półstrukturalny kwasu: .....

Nazwa systematyczna bromopochodnej:

.....

**Zadanie 39. (0–1)**

Laktamy to związki, które powstają w wyniku wewnątrzcząsteczkowej kondensacji niektórych aminokwasów. W reakcji biorą udział: grupa karboksylowa i grupa aminowa znajdująca się np. przy 4., 5. lub 6. atomie węgla łańcucha aminokwasu. Przykładem laktamu jest związek o wzorze



Spośród poniższych nazw wybierz nazwę aminokwasu, z którego otrzymano laktam o podanym wzorze. Zaznacz wybraną odpowiedź.

- A. kwas 2-amino-4-metylopentanowy
- B. kwas 4-amino-3,4-dimetylobutanowy
- C. kwas 4-amino-3-metylopentanowy
- D. kwas 4-metylo-4-aminopentanowy

Wypełnia egzaminator	Nr zadania	36.1.	36.2.	37.1.	37.2.	38.	39.
	Maks. liczba pkt	1	1	1	1	1	1
	Uzyskana liczba pkt						

**Zadanie 40. (0–1)**

Poniżej przedstawiono sekwencję aminokwasów pewnego tripeptydu:

Phe-Gly-Cys

**Napisz wzór półstrukturalny (grupowy) tego tripeptydu. Pamiętaj, że w zastosowanej notacji umieszcza się z lewej strony kod aminokwasu, którego reszta zawiera wolną grupę aminową połączoną z atomem węgla  $\alpha$ .**

<b>Wypełnia egzaminator</b>	<b>Nr zadania</b>	<b>40.</b>
	<b>Maks. liczba pkt</b>	<b>1</b>
	<b>Uzyskana liczba pkt</b>	



# **BRUDNOPIS (*nie podlega ocenie*)**